

ВСЕРОССИЙСКАЯ ОЛИМПИАДА ШКОЛЬНИКОВ

Пригласительный этап 2023 г.

ОБЖ. 6-7 классы

Критерии оценивания

Номер задания	Тип задания	Критерии оценивания
1	Выбор одного ответа	Верный ответ – 2 балла
2	Выбор одного ответа	Верный ответ – 2 балла
3	Выбор одного ответа	Верный ответ – 2 балла
4	Выбор одного ответа	Верный ответ – 2 балла
5	Выбор одного ответа	Верный ответ – 2 балла
6-10	Выбор нескольких ответов	За каждый верный ответ – 2 балла. Если выбрано более двух вариантов ответов, то 0 баллов. Всего – 4 балла
11	Установить соответствие Краткий ответ	За полностью верное соответствие – 8 баллов. За верный ответ – 2 балла. Всего – 10 баллов
12	Установить соответствие	За каждую верную пару – 2 балла. Всего – 10 баллов
13	Выбор нескольких ответов Выбор одного ответа	За каждый верный ответ – 2 балла. Если выбрано более четырёх вариантов ответов, то 0 баллов. Верный ответ – 2 балла. Всего – 10 баллов

Всего: 60 баллов

Пригласительный этап ВсОШ в городе Москве, ОБЖ, 6–7 класс, 2023

12 апр 2023 г., 09:55 — 13 апр 2023 г., 21:15

Тестовые задания

Определите один правильный ответ

За правильный ответ начисляется 2 балла

№ 1

2 балла

Изображённый знак в вагоне метро означает



«не прислоняться к дверям»

«не входить в двери»

«не останавливаться у дверей»

«не подходить к дверям»

№ 2

2 балла

Какое значение имеет визуальный сигнал «земля – воздух»?



«нужен врач – серьёзные телесные повреждения»

«двигаемся в этом направлении»

«положительно»

«не понял»

№ 3

2 балла

Как называется очень сильный порывистый холодный ветер в приморских районах, приводящий в зимнее время к обледенению портовых сооружений и кораблей?

бора

ураган

фен

мистраль

№ 4

2 балла

Верны ли суждения, что если террорист, пытаясь спасти свою жизнь, направил на Вас пистолет, то необходимо

- А. выполнять его требования
- Б. ждать, когда Вас освободят

- верно только А
- верно только Б
- верны оба суждения
- оба суждения неверны

№ 5

2 балла

При частичном нарушении проходимости дыхательных путей, когда человек подавился, но может разговаривать, первую помощь рекомендуется начать с

- нанесения 5 ударов между лопатками
- предложения покашлять
- выполнения приёма Геймлиха
- предложения выпить тёплой воды

Тестовые задания

Определите два правильных ответа

За каждый правильный ответ начисляется 2 балла

№ 1

4 балла

Что из перечисленного относится к сопутствующим проявлениям опасных факторов пожара?

- части разрушившихся транспортных средств
- токсичные вещества и материалы, попавшие в окружающую среду
- тепловой поток
- повышенная концентрация токсичных продуктов горения
- пониженная концентрация кислорода

№ 2

4 балла

Какие перечисленные источники могут относиться к основным источникам загрязнения атмосферы?

- биосферные
- антропогенные
- естественные
- искусственные
- биолого-социальные

№ 3

4 балла

Какие из перечисленных служб входят в перечень экстренных оперативных служб, вызов которых круглосуточно и бесплатно обязан обеспечить оператор связи пользователю услугами связи?

служба реагирования в чрезвычайных ситуациях

служба «ГосОтлов»

служба «Антитеррор»

служба экстренного реагирования на землетрясение

служба вневедомственной охраны МВД РФ

№ 4

4 балла

Какие организации в соответствии с законодательством Российской Федерации признаны террористическими и экстремистскими?

«База»

«Аванпост»

«Правый сектор»

«Ата йорты – Отчий дом»

«STS»

№ 5

4 балла

Что относится к простейшим приёмам обезболивания при травме конечностей?









- создание покоя повреждённой конечности в максимально удобном положении
- наложение повязки
- местное применение холода
- местное применение тепла
- приём обезболивающих препаратов

Теоретические задания

№ 1

10 баллов

Расположите предложенные фрагменты в верной последовательности, чтобы в итоге получилось определение.

удалённые от центра перекрёстка начала закруглений проезжих частей			4
разветвления дорог на одном уровне, ограниченное воображаемыми линиями,			2
место пересечения, примыкания ил			1
соединяющими соответственно противоположные, наиболее			3

Запишите термин, определение которому Вы составили.

перекрёсток

№ 2

10 баллов

Установите соответствие между изображением дорожного знака и его наименованием.

			«Движение на велосипедах и мопедах запрещено»
			«Движение запрещено»
			Велосипедная дорожка или полоса»
			«Въезд запрещён»
			«Место отдыха»
			«Стоянка велосипедов запрещена»
			«Стоянка запрещена»
			«Конец велосипедной дорожки или полосы»
			«Кемпинг»
			«Остановка запрещена»

№ 3, вариант 1

10 баллов

Перелом – нарушение целостности кости. Признаки перелома делятся на две группы: достоверные и косвенные. Выберите четыре достоверных признака перелома.

- деформация в месте повреждения
- костный хруст
- отёк в месте повреждения
- укорочение (удлинение) пострадавшей части конечности
- кровоизлияние в месте повреждения
- нарушение функции конечности
- боль в месте повреждения
- патологическая подвижность

При переломе(-ах) какой(-их) кости(-ей) выполняется иммобилизация, изображённая на рисунке?



- шеи
- рёбер
- плечевой кости



КОСТЕЙ КИСТИ

№ 3, вариант 2

10 баллов

Перелом – нарушение целостности кости. Признаки перелома делятся на две группы: достоверные и косвенные. Выберите четыре косвенных признака перелома.

- деформация в месте повреждения
- костный хруст
- отёк в месте повреждения
- укорочение (удлинение) пострадавшей части конечности
- кровоизлияние в месте повреждения
- нарушение функции конечности
- боль в месте повреждения
- патологическая подвижность

При переломе(-ах) какой(-их) кости(-ей) выполняется иммобилизация, изображённая на рисунке?



- шеи
- рёбер
- плечевой кости



КОСТЕЙ КИСТИ